

# Werkblad Meander Thema 2: Om ons heen


## 2.1 Leven in Europa



### Frankrijk

Dit zijn de Franse Alpen


Hier kun je ook skiën



### Zweden

Op het plaatje zie de nacht-zon

In Zweden is heel veel bos



### Griekenland

Dit is de tempel van Zeus

In Griekenland zijn wel 2000 eilanden



### Polen

In het zuiden van Polen zijn bergen

 Kleur de woorden:	bergen	Geel
	tempel	Blauw
	nacht-zon	Rood
	Alpen	Groen



In welk land zie je dit?

In \_\_\_\_\_ zie je de Alpen.

In \_\_\_\_\_ zie je de nacht-zon

In \_\_\_\_\_ zijn 2000 eilanden

## 2.1 Naar school in Europa



Hoe is jou school in Nederland?



	waar	niet waar
Ik ga met de bus		
Ik ga de hele dag naar school		
Ik eet warm op school		



Teken de schoolbus, de bus-halte en 2 meisjes

## 2.1 Het klimaat in Europa

Zweden: lees de kaart

	
	Waar is het $-18^{\circ}\text{C}$ ? <input type="checkbox"/> <i>noord / zuid</i>
	Waar is het $-5^{\circ}\text{C}$ ? <input type="checkbox"/> <i>noord / zuid</i>
	Waar is licht sneeuw ? <input type="checkbox"/> <i>noord / zuid</i>

Waar kun je skiën ?

	In Zweden kun je skiën <input type="checkbox"/> <i>waar / niet waar</i>
	In Griekenland kun je skiën <input type="checkbox"/> <i>waar / niet waar</i>
	In Frankrijk kun je skiën <input type="checkbox"/> <i>waar / niet waar</i>
	In Polen kun je skiën <input type="checkbox"/> <i>waar / niet waar</i>

- Extra Maak opdracht 3 op bladzijde 25

## 2.2 Naar één Europa



Schrijf: *Nederland / Europese unie*



Dit is \_\_\_\_\_

Dit is \_\_\_\_\_



1. Waar kun je met de euro betalen?

Alleen in Nederland.

In veel landen van de Europese Unie.

2. Waar kun je niet met de euro betalen?

In Nederland

In Amerika, China en Afrika.

● Extra Maak opdracht 5 op bladzijde 30

## 2.3 Onder de loep: West Europa



Zoek in je boek (bladzijde 38)



Teken een euro in de landen waar met de euro kan betalen.



Schrijf: *Nederland / Europese unie*

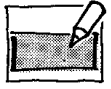


De vlag van \_\_\_\_\_

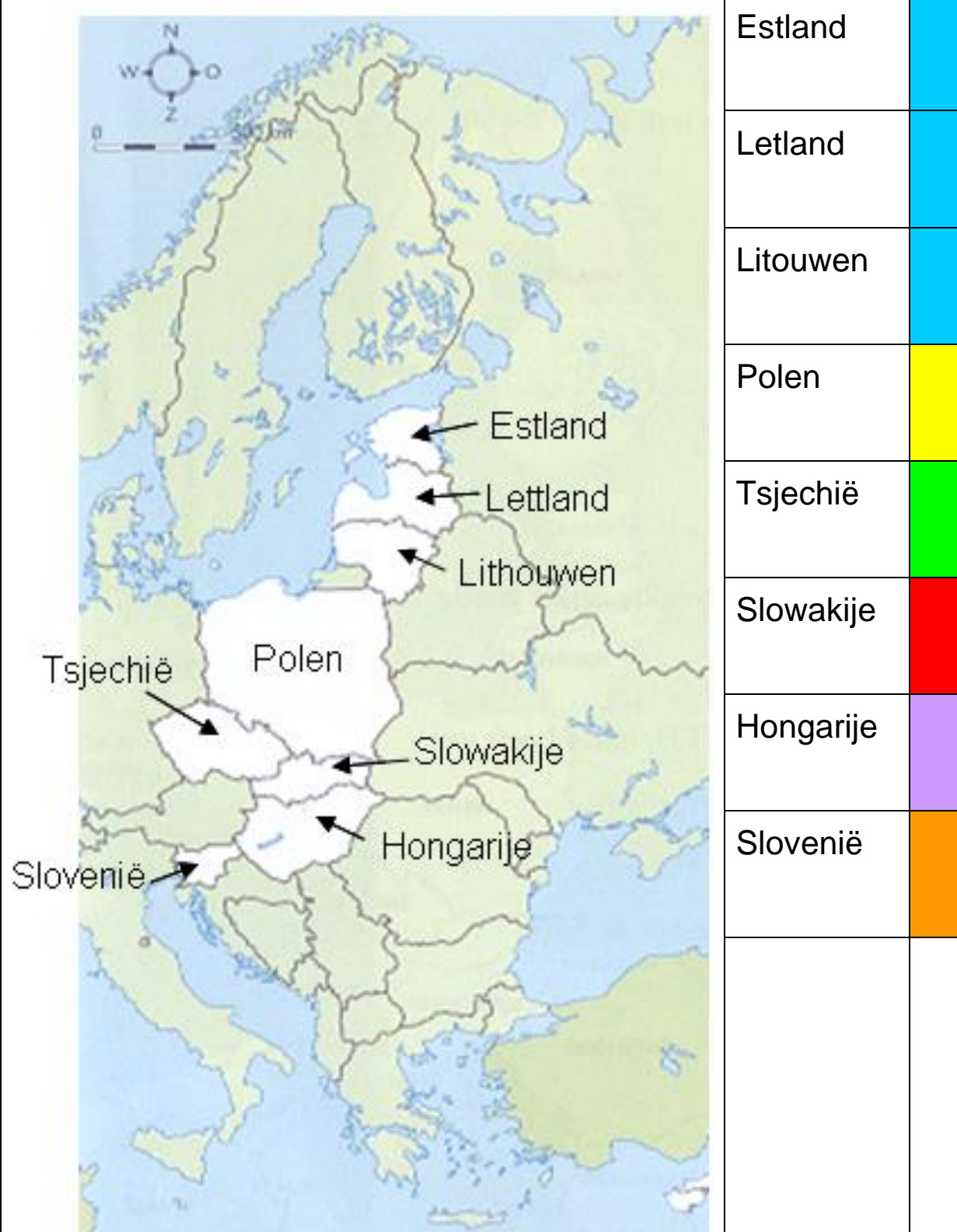










De vlag van \_\_\_\_\_

## 2.3 Onder de loep: Oost Europa



Kleur de landen van Oost Europa



Estland	
Letland	
Litouwen	
Polen	
Tsjechië	
Slowakije	
Hongarije	
Slovenië	

## 2.3 Onder de loep: Europa

Kijk goed naar de kaart



Zet een pijl → op de kaart bij Nederland



Schrijf: *Noord / Oost / Zuid / West*

Finland ligt \_\_\_\_\_ in Europa

Italië ligt \_\_\_\_\_ in Europa

Polen ligt \_\_\_\_\_ in Europa

Ierland ligt \_\_\_\_\_ in Europa

- Extra Maak opdracht 7 op bladzijde 38