


Werkblad Meander Thema 3: Waterland


3.1 De rij




De Rijn begint in Zwitserland
Eerst is de Rijn een smal stroompje
Op dit bord staat: hier begint de Rijn




Kleine stroompjes vormen een meer
Er komt steeds meer water bij elkaar



Dan is het een woeste rivier
Hier kun je niet met een boot varen



Dit is een sluis
Door een sluis wordt een rivier kalm
Dan kan er wel een boot in varen



Kijk, dit is de Rijn in Nederland
Bij ons is de Rijn breed en kalm
Zie je die grote boot?
Die vaart naar Rotterdam, naar de zee



Kleur de woorden:

Rijn	blauw
Zwitserland	geel
stroompje	rood
sluis	groen
rivier	paars

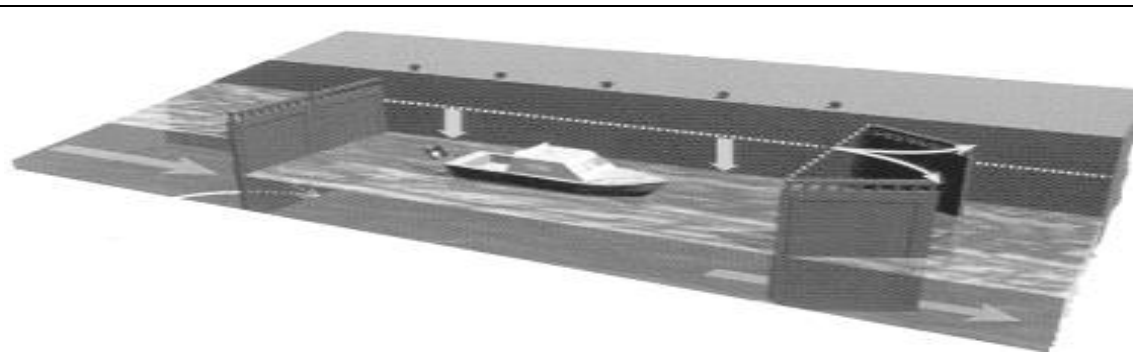
3.1 De Rijn



Zet 1,2,3 en 4 in de kaart

- | | |
|---|---|
| 1 | De rijn begint in Zwitserland |
| 2 | Eerst is de stroom woest |
| 3 | Dan wordt de rivier kalm, want er zijn sluisen. |
| 4 | Bij Rotterdam stroomt de rivier in de zee |

Zet een pijl → op de kaart bij Nederland



Op dit plaatje staat een.....

s

Kleur het plaatje van de sluis	boot	geel
	pijlen	rood
	deuren van de sluis	bruin
	water	licht blauw

3.1 De Rijn



Op dit plaatje staat een.....

f

Waarom mag een fabriek geen gif in de rivier doen?

- Dan kan er geen boot in varen.
- Dan gaan alle vissen dood.



Teken een rivier, 1 fabrieken en 1 boot.

- Extra Maak opdracht 7 en 8 op bladzijde 47

3.2 Aan de rivier



Welke tekst hoort bij het plaatje?

Ingedamde
rivier

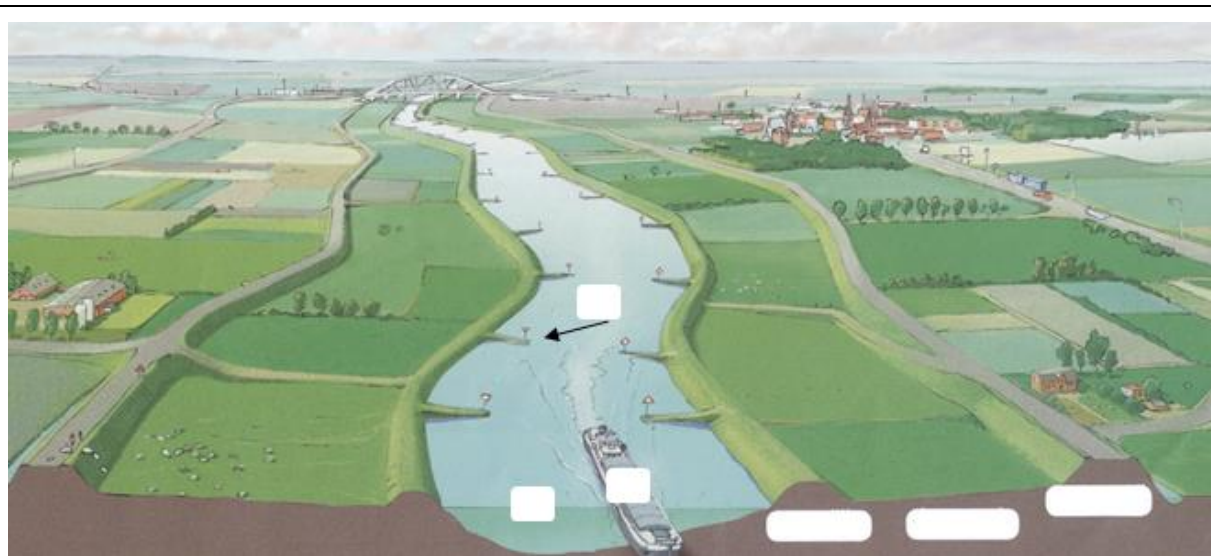


Een kleine
bootje

Natuurlijke
rivier



Een grote
boot



Dit is een ingedamde.....

r

Schrijf 1, 2, 3, 4, 5 en 6 in het plaatje

1 = boot

4 = zomer- dijk

2 = rivier


5 = uiterwaard

3 = krib

6 = winter-dijk


3.2 Aan de rivier

De rivier in de zomer



In de zomer is de rivier.....	smal	breed
In de zomer staat het water	hoog	laag
Het water staat tot de	zomerdijk	winterdijk

De rivier in de winter



In de winter is de rivier.....	smal	breed
In de winter staat het water	hoog	laag
Het water staat tot de	zomerdijk	winterdijk

- Extra Maak opdracht 3 op bladzijde 49

3.3 Onder de loep: Rivieren



Weetjes over rivieren



Sneeuw

In de Rijn stroomt smelt-water van sneeuw en water van regen.

De Rijn is een gemengde rivier.



Regen rivier

In de Theems stroomt alleen regen water.



IJs

Soms vriest de Wolga dicht

Deze visser boorde een gat in het ijs



Zee

Elke rivier gaat naar de zee.

Dat heet de rivier-monding

Vragen:

1. Wat is een gemengde rivier?

Dat is een rivier met alleen regen-water

Dat is een rivier met regen-water en smelt-water

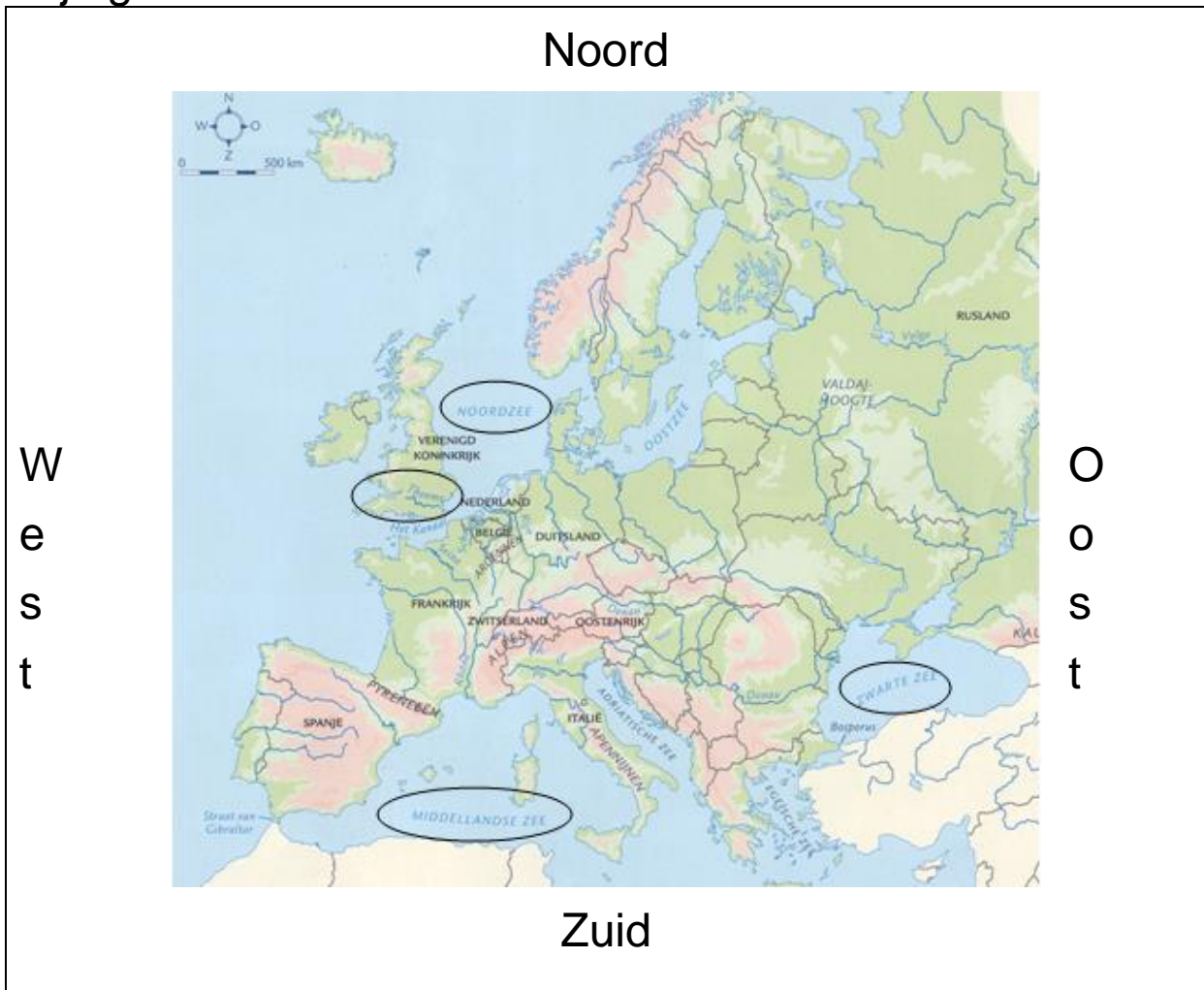
2. Waar gaat elke rivier naartoe?

Naar een berg

Naar de zee

3.3 Onder de loep: Europa

Kijk goed naar de kaart



Zet een pijl → op de kaart bij Nederland

 Schrijf: *Noord / Oost / Zuid / West*

De Noordzee ligt _____ van Nederland

De Middellandse zee ligt _____ van Nederland

De Zwarte zee ligt _____ van Nederland

De Theems ligt _____ van Nederland

- Extra Maak opdracht 7 op bladzijde 59